

Time: 10 Minutes	Paper Math 2	Total Marks: 10
-------------------------	---------------------	------------------------

6th Month, 3rd Week, 2nd Day	Syllabus: Exercise # 2. Q # 1, 2
------------------------------	---

Match lines with the correct names.

لائنوں کو درست نام سے ملائیں۔




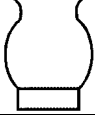

Straight Lines



Curved Lines

Write the total number of straight and curved lines in the given shapes. (5)

دی گئی اشکال میں کل کتنی سیدھی لائیں اور کتنی مڑی ہوئی لائیں ہیں۔

		
Straight Lines _____	Straight Lines _____	Straight Lines _____
Curved Lines _____	Curved Lines _____	Curved Lines _____

Time: 10 Minutes	Paper Math 2	Total Marks: 10
-------------------------	---------------------	------------------------

6th Month, 3rd Week, 2nd Day	Syllabus: Exercise # 2. Q # 1, 2
------------------------------	---

Match lines with the correct names.

لائنوں کو درست نام سے ملائیں۔






Straight Lines



Curved Lines

Write the total number of straight and curved lines in the given shapes. (5)

دی گئی اشکال میں کل کتنی سیدھی لائیں اور کتنی مڑی ہوئی لائیں ہیں۔

		
Straight Lines _____	Straight Lines _____	Straight Lines _____
Curved Lines _____	Curved Lines _____	Curved Lines _____
